

السؤال الأول: اكمل:

2



تقريبا \_\_\_\_\_ سنتمتر

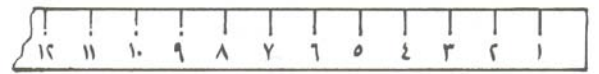
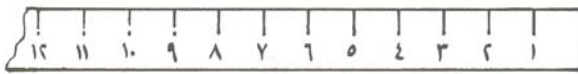
تقريبا كم مشبك ورق هو طول قلم التلوين

تقريبا \_\_\_\_\_ سنتمتر

تقريبا كم سنتمتر هو طول قلم التلوين

السؤال الثاني: استخدم المسطرة لقياس الطول

2

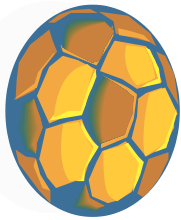


تقريبا \_\_\_\_\_ سنتمتر

تقريبا \_\_\_\_\_ سنتمتر

السؤال الثالث: حوط الاجابة الصحيحة:

1



المسطرة السنتمترية

الشريط المتري

يمكن ايجاد المحيط باستخدام \_\_\_\_\_