

السؤال الأول: اجمع ثم استخدم مضاعفات العدد لتطرح

	-		+		


السؤال الثاني: اجمع ومن ثم استخدم عبارة الجمع لتطرح

١٣	-	٨	+		
٥		٥			

السؤال الثالث: اجمع او اطرح ثم صل العبارات ذات الصلة

	$5 - 9$
	$1 - 3$
	$2 - 4$
	$3 - 6$

	$2 + 2$
	$3 + 3$
	$5 + 4$
	$2 + 1$



السؤال الأول: أوجد الأعداد الناقصة

17	9
—	—

17 = 9 + —

— = 9 - 17

17 = — + 9

9 = — - 17

السؤال الثاني: اوجد ناتج الجمع.

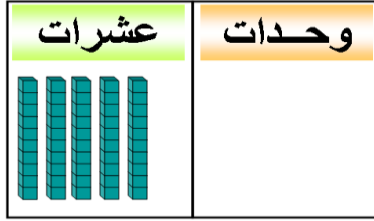
 $\begin{array}{r} 2 \\ 7 \\ \hline 2 \end{array} +$ <input style="width: 50px; height: 20px;" type="text"/>	 $\begin{array}{r} 4 \\ 2 \\ \hline 1 \end{array} +$ <input style="width: 50px; height: 20px;" type="text"/>	 $\begin{array}{r} 2 \\ 4 \\ \hline 5 \end{array} +$ <input style="width: 50px; height: 20px;" type="text"/>	 $\begin{array}{r} 5 \\ 5 \\ \hline 3 \end{array} +$ <input style="width: 50px; height: 20px;" type="text"/>
---	---	---	---

السؤال الثالث:
أكمل كل من ما يلي.

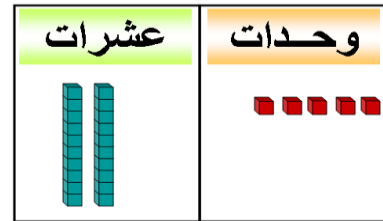
اطرح ٤	
	١٤
	٩
عدد.	١٢

عدد الوحدات







_____ وحدات و _____ عشرات



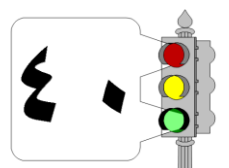
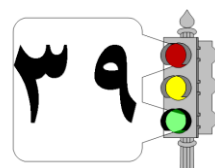
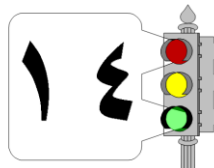
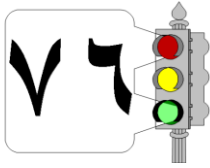
_____ وحدات و _____ عشرات

السؤال الثاني: اكتب رمز العدد

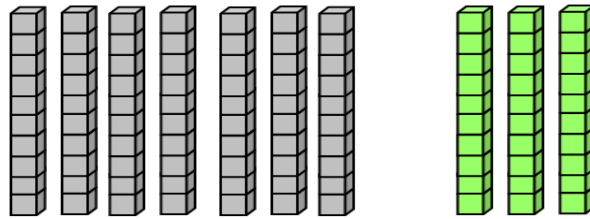


السؤال الثالث: صل بين رمز العدد واسمه اللفظي.

أربعة عشر ستة وسبعون أربعون تسعة وثلاثون

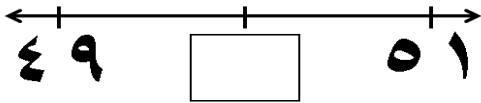



السؤال الرابع: اكتب عدد العشرات ثم اكتب رمز العدد.

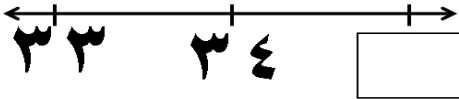



السؤال الأول: _____ عشرات و _____ عشرات تكون _____ عشرات
و _____ تكونان _____


العدد الذي يأتي مباشرة قبل العدد ٢٨ هو.



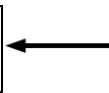
العدد الذي يأتي مباشرة بين العددين ٥١, ٤٩



العدد الذي يأتي مباشرة بعد العدد ٣٤ هو.



السؤال الثاني: أكمل: ٦٠ ٦١ ٦٢ ٦٣ ٦٤ ٦٥ ٦٦ ٦٧ ٦٨ ٦٩ ٧٠



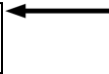
٦٢



قرب إلى أقرب

عشرة:





٦٨



حوظ العدد الأكبر

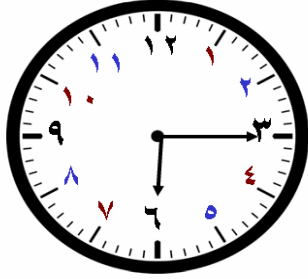


السؤال الثالث: اكتب زوجي

_____ ٣٦
_____ ٥٣

أكتب كلمة فردي
او زوجي


السؤال الأول: اكتب الوقت بطريقتين مختلفتين



الساعة

:

:

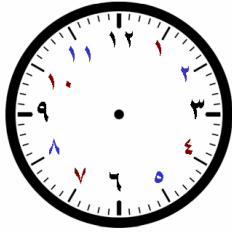


الساعة

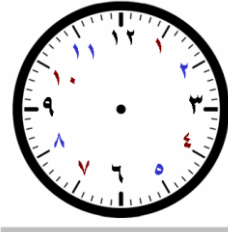
:

:

السؤال الثاني: ارسم عقربي الساعة لتوضح الوقت.



٨:١٥



١١:٠٠

السؤال الثالث: ارسم عقربي الساعة. اكتب وقت النهاية.

