








السؤال الأول: كم عدد العيون؟ عد بالاثنيات (٢-٢) أكتب الاعداد.



السؤال الثاني: اجب عن الاسئلة التالية من التمثيل البياني بالصور.


عصير الفاكهة المفضل



	 عصير البرتقال
	 عصير التفاح
	 عصير الاناناس
كل  يمثل ١ تلميذ	

١ كم عدد التلاميذ الذين يفضلون عصير البرتقال؟



٢ ما هو العصير الاكثر تفضيلا؟

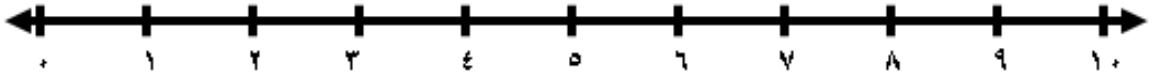


وجوه زرقاء	وجوه حمراء
	
كم عدد مرات ظهور الوجه الازرق؟	كم عدد مرات ظهور الوجه الاحمر؟
_____	_____

السؤال الأول: أكمل كل من ما يلي.

<p>و _____ تكونان</p> <p>_____ = _____ + _____</p>	<p>انضموا إليها.</p> <p>كم عدد كل الـ ؟</p> 	<p>تحوم حول الازهار.</p> <p>اخرى اقتربت منها.</p> <p>كم مجموع كل الـ حول الازهار؟</p> <p>و _____ تكونان</p> 
--	---	---

السؤال الثاني: أوجد الناتج



<p><input type="text"/> = 2 + 7</p>	<p><input type="text"/> = 3 + 5</p>
-------------------------------------	-------------------------------------

<p>8 + <input type="text"/></p>	<p>9 + <input type="text"/></p>
---------------------------------	---------------------------------

السؤال الثالث: حل المسائل

بكم طريقة تكون العدد 5؟

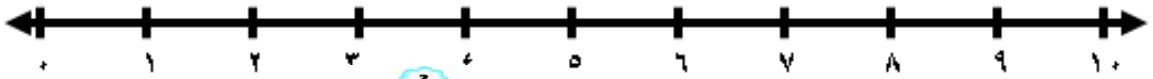


٧ على العشب.
٢ قفزت وابتعدت.
كم عدد الـ التي بقيت على العشب؟

_____ = _____ - _____

السؤال الأول: أكمل ما يلي.

السؤال الثاني: استخدم خط الاعداد. أوجد الفرق



١ - ١ = _____

٩ - ٢ = _____

٨ - ٢ = _____

٣ - ٢ = _____

إبدا بالعدد ٨ واطرح
عددا اذا كانت الاجابة
هي العدد ٨ ما العدد
الذي طرحته؟



السؤال الثالث: أكمل كل من ما يلي.

رأى فهد ١٠
رأى أحمد ٦
كم رأى فهد أكثر
من أحمد؟

_____ = _____ - _____

أكثر _____

السؤال الأول: أكمل كل من ما يلي.

٤ كرة في الصندوق.
أخذت فاطمة ٥ كرة كم
عدد الـ كرة الباقية؟
___ = ___ - ___

مع مصطفى ٩ كرة
أعطاه أحمد ٥ كرة أخرى
كم عدد كل كرة مع مصطفى؟
___ = ___ + ___

السؤال الثاني: حوِّط كلمة اجمع او اطرح. أكمل كل من ما يلي.

٦ تلعب في الحديقة.
٢ جرى بعيدا.
كم عدد الـ كرة في الحديقة الان؟
اجمع **اطرح**

صنع أحمد ٧
صنع جمال ٤ أخرى
كم عدد الـ التي صنعها أحمد وجمال؟
اجمع **اطرح**

السؤال الثالث: صل كل عبارة للكلمة المناسبة

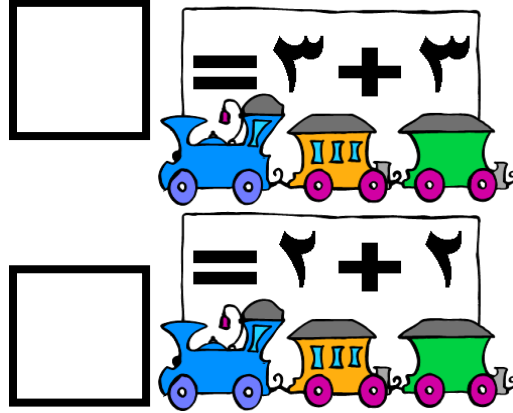
عند أخذ جزء
من مجموعة
وترك الآخر.

عند ضم
مجموعتين

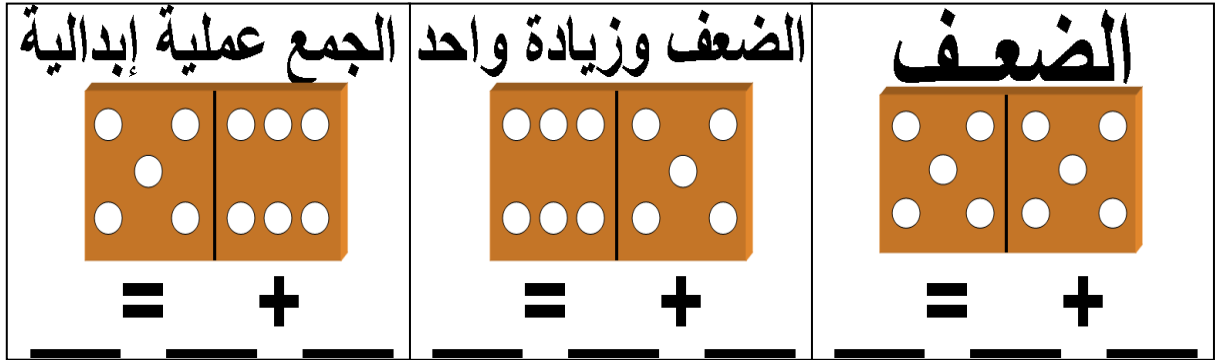
أجمع (+)

أطرح (-)

السؤال الأول: أكمل كل من ما يلي.



السؤال الثاني: أكمل كل من ما يلي.



السؤال الثالث:
أكمل كل من ما يلي.

